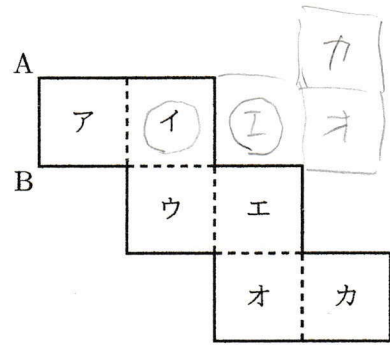
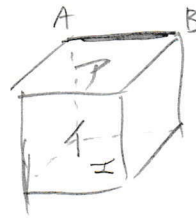


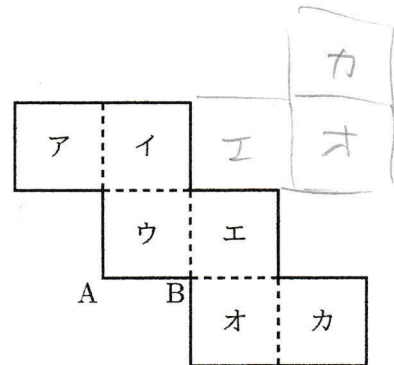
右の図は、立方体の展開図である。この展開図を組み立てて作られる立方体について、辺 AB と平行な面をア～カの中からすべて選び、符号で書きなさい。



イ, エ



右の図は、立方体の展開図である。この展開図を組み立てて作られる立方体について、辺 AB と平行な面をア～カの中からすべて選び、符号で書きなさい。



イ, カ

