



- (1) 縦 5 マス、横 4 マスの長方形を使って数字を表す。下の図で左から順に、2, 8, 49 を表している。このとき、A の表す数字を答えなさい。また、256 を表すようにマス目を塗りつぶしなさい。


2




8



49



A



256

