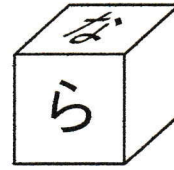
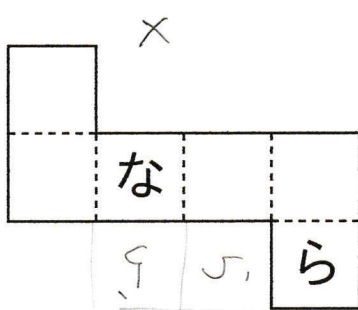


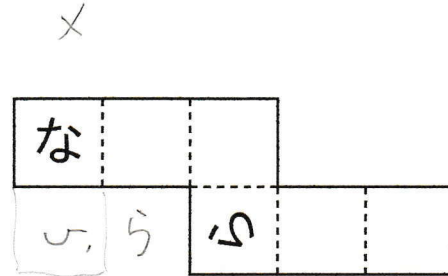
右の図のように、「な」、「ら」とかかれた立方体がある。次のア～エの立方体の展開図の中に、組み立てると図の立方体ができるものが1つある。その展開図を選び、ア～エの記号で答えよ。



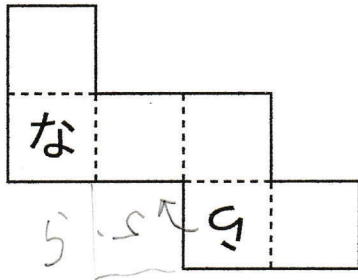
ア



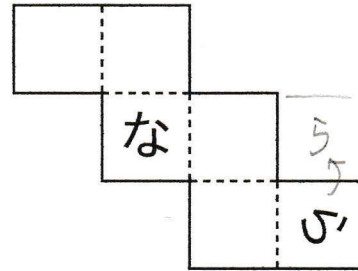
イ



ウ



エ



[奈良県]

ウ