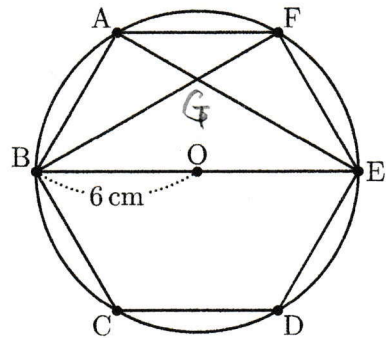


zu teil 50

右の図のように、半径6cmの円Oの周上に6つの点A, B, C, D, E, Fがあり、これらの点は円周を6等分している。ここで、線分AEと線分BFの交点をGとする。



- このとき、次の各問いに答えなさい。
- (1) $\angle BAE$ の大きさを求めなさい。
 - (2) $\triangle AGF$ と $\triangle BGE$ であることを証明しなさい。
 - (3) 線分 AG の長さを求めなさい。
 - (4) $\triangle AGF$ と四角形 BCDE の面積の比を求めなさい。

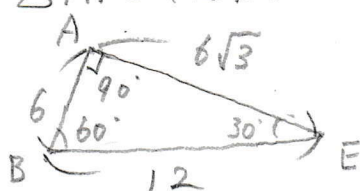
[沖縄県]

(1) \widehat{BE} の内周角が 90°

(2) $\triangle AGF$ と $\triangle BGE$ で
 \widehat{AB} に対する内周角は等しいので
 $\angle AFG = \angle BEG \dots ①$
 \widehat{EF} に対する内周角も等しいので
 $\angle FAG = \angle EBG \dots ②$
 ①, ② より 2 組の角がそれぞれ等しいので
 $\triangle AGF \sim \triangle BGE$

対頂角を利用してOK

(3) $\triangle ABE$ は以下のような三角形なので



$AE = 6\sqrt{3}$

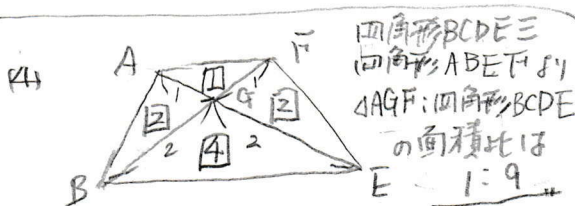
$\triangle AGF$ と $\triangle BGE$ で相似な比は

$AF : BE = 6 : 12 = 1 : 2$

またここで $\triangle AGF$ と $\triangle BGE$ はともに二等辺三角形であるから $AG = FG, BG = EG$

よって $AG : BG = AG : EG = AF : BE = 1 : 2$

つまり $AG = AE \times \frac{1}{1+2} = 6\sqrt{3} \times \frac{1}{3} = 2\sqrt{3}$ $2\sqrt{3}$ cm



$AF : BE = 1 : 2$ より $\triangle AFG$ と $\triangle BEG$ の面積は $\square : \square$ かつ $AG : EG = FG : BG = 1 : 2$

よって $\triangle ABG$ と $\triangle BEG$ の面積比は $1 : 2$ であるから

$\triangle BEG = \square$ とすると $\triangle ABG = 2\square$, 同様に $\triangle FGE = 2\square$

四角形 BCDE \equiv 四角形 ABFE = $9\square$, $\triangle AGF = 1\square$ なのだから面積比は $1 : 9$