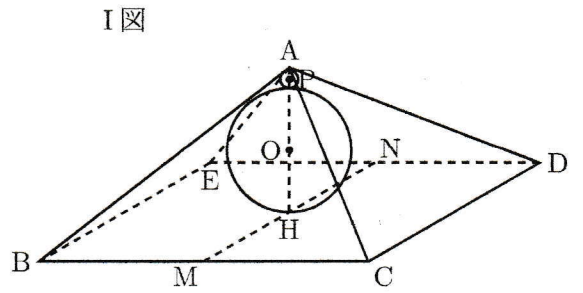
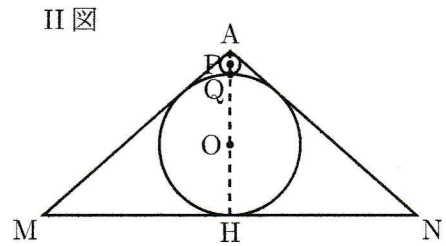


右のI図のように、底面の1辺が6 cm、高さが $\sqrt{7}$  cmの正四角錐A-BCDEがあり、2辺BC, DEの中点をそれぞれM, Nとし、線分MNの中点をHとする。また、線分AH上に2点O, Pがあり、正四角錐の内部に、点Oを中心とする球と点Pを中心とする球がある。



右のII図は、この立体を3点A, M, Nを通る平面で切った切り口を表している。II図中の円Oは $\triangle AMN$ の各辺と接して、円Pは2辺AM, ANと接している。また、2円O, Pは線分AH上の点Qを通り、点Qにおける接線と円Pの接線は同じ直線である。

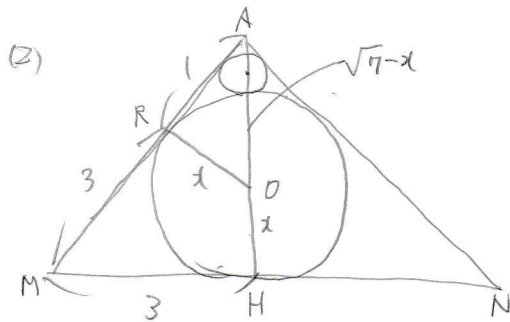


このとき、次の(1)~(3)に答えよ。

- (1) 辺ABの長さを求めよ。また、正四角錐の表面積を求めよ。
- (2) 点Oを中心とする球の半径を求めよ。
- (3) 点Oを中心とする球の体積と点Pを中心とする球の体積比を最も簡単な整数の比で表せ。

こういすは II図を参考に解く II図があるのでは問題は易いはず。普通は I図はありせん

[京都府]

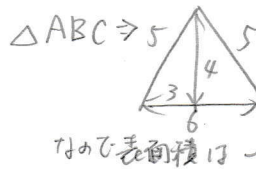
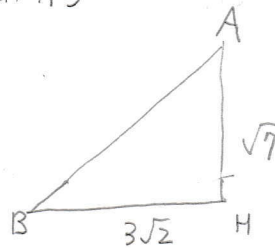


接線の関係から  
 $MH = MR = 3$  とおくと  $AR = 1$   
 半径  $OH = OR = x$  とすると  $AO = \sqrt{7} - x$  の  
 三平方の定理を  $\triangle ARO$  に用いると

$$(\sqrt{7} - x)^2 = 1^2 + x^2$$

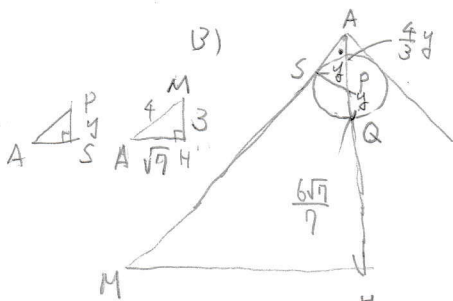
$$2\sqrt{7}x = 6 \quad x = \frac{3}{\sqrt{7}} = \frac{3\sqrt{7}}{7} \text{ cm}$$

(1) AB



BH は BD の  $\frac{1}{2}$   
 BD は  $1:1:\sqrt{2}$  より  $6\sqrt{2}$   
 $AB = \sqrt{(3\sqrt{2})^2 + (\sqrt{7})^2}$   
 $= 5 \quad AB = 5 \text{ cm}$

$6 \times 4 \times \frac{1}{2} \times 4 + 36$   
 $= 48 + 36$   
 $= 84$  表面積  $84 \text{ cm}^2$



$\triangle ASP$  の  $\triangle AHM$  と相似から 小さい球の半径  $SP = PQ = y$  とすると  
 $3:4 = y:AP$  より  $AP = \frac{4}{3}y$  したがって  $AQ = AH - HQ = \sqrt{7} - \frac{6\sqrt{7}}{7} = \frac{\sqrt{7}}{7}$  ... ①

1 数楽 <http://www.mathtext.info/>  
 $AQ = AP + PQ = \frac{4}{3}y + y = \frac{7}{3}y$  ... ②  $0 = ①$  より  $\frac{7}{3}y = \frac{\sqrt{7}}{7} \quad y = \frac{3\sqrt{7}}{49}$

球は互いにいつも相似なのでその比は  $\frac{3\sqrt{7}}{7} : \frac{3\sqrt{7}}{49} = 7:1$

体積は相似比の3乗なので  $7^3:1^3 = 343:1$